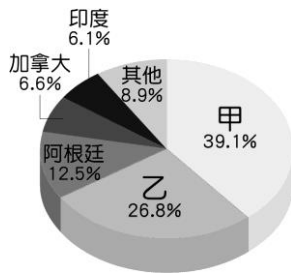
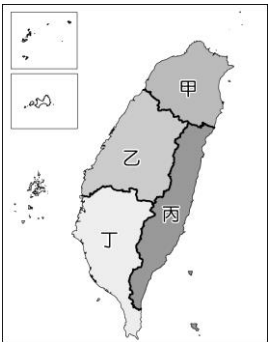


一、 單選題(每題 2 分) 電腦讀卡

1. () 「蜜餞」的由來，有一說法是古代男子因參加科舉或是工作出遠門時，妻子將瓜果等食材用糖、鹽等加以醃漬，讓丈夫帶著甜蜜點心的餞別之意。請問：「蜜餞」的出現與下列何種需求最具相關性？ (A)防腐需求 (B)恆溫需求 (C)美觀需求 (D)提味需求。
2. () 附圖為西元 2018 年世界基因改造作物主要種植國家比例，請問圖中的甲、乙依序是哪些國家？
(A)美國、中國 (B)美國、巴西 (C)中國、美國 (D)巴西、美國。
3. () 台灣近期缺蛋荒越演越烈，世界各地包括臺灣在內，為了提供價格較低廉的雞蛋，多數雞農仍採取將雞隻限制在小空間籠網中的生產方式，因此歐洲聯盟以壓倒性票數同意，未來將全面廢除此種飼養模式，並考慮禁止不符合動物福利標準的農產品進口。請問：歐盟這個舉動，主要是因為此種養殖方式，容易造成下列哪個食品安全問題？ (A)加入藥劑加強食物的色澤 (B)殘留藥劑無法清洗進入人體 (C)高密度養殖造成疾病傳染 (D)食物里程過長使碳排放量高。
4. () 在食品安全問題頻傳的現代社會，消費者較無法透過下列何種方式提高食物來源的安全性？ (A)選擇已開發國家的農產 (B)提高有機農產品的消費 (C)利用小農市集選購食物 (D) 購買有生產履歷的產品。
5. () 有機農業的生產方式對環境較為友善，產品也相對安全，但仍無法完全取代其他的農業生產方式，最有可能的原因為何？ (A)無法使用生物防治 (B)產品售價較低 (C)生產成本較高 (D)有機飼料便宜。
6. () 彰化縣田尾鄉是全臺花卉產量最高的鄉鎮，當地居民約有八成以上從事花卉產業，形成獨特的花卉聚落。其中，田尾鄉農會花卉產銷班第 19 班成員栽培 27 公頃花田，採取資材共購、產品共選，團結力量每年創造 3 億元產值。請問：上文中畫線處可以用下列哪個概念解釋？ (A)交通革新 (B)區域專業化 (C)農業企業化 (D)生產機械化。
7. () 臺灣自加入世界貿易組織(WTO)後，國外農產品進口量增加，使得食物里程變長，食品安全問題風險提高。為解決上述風險，下列哪個作法比較可以減少消費者對於食品安全的疑慮？ (A)進口紐西蘭商業性水果 (B)發展高密度養殖海鱷魚 (C)採購美國草地牧養牛肉 (D)鼓勵本土農業生產人員注重產銷履歷。
8. () 若以臺灣消費者的角度而言，下列食物的食物里



- 年 班 座號： 姓名：
- 程，由短至長的排序應為何？ (甲)智利櫻桃 (乙)泰國椰子 (丙)臺東釋迦 (丁)美國葡萄
(A)乙丙甲丁 (B)丙乙甲丁 (C)丙乙丁甲 (D)丙丁乙甲。
9. () 下表是臺灣傳統農業與現代農業經營特徵的比較，其中哪一個項目的敘述最為正確？
- | 項目 | (A)
生產組織 | (B)
作物種類 | (C)
肥料使用 | (D)
經營目的 |
|------|-------------|-------------|-------------|-------------|
| 傳統農業 | 家庭式 | 單一 | 化學肥料 | 換取現金 |
| 現代農業 | 產銷班 | 多樣 | 天然堆肥 | 自給 |
10. () 下列農業產銷的案例，何者不符合「農業企業化」的特色？ (A)菜農種植多種蔬菜以應付市場的需要 (B)稻農合作種植，創立經營品牌 (C)茶農與連鎖飲料店合作，穩定供應茶葉 (D)肉雞養殖場定期清理環境，以符合檢驗標準。
11. () 「隨著時代演進，我們所吃的食物，從產地到餐桌之間的距離逐漸拉長。」請問：這一句話可以用下列哪個概念進行解釋？ (A)生產技術進步 (B)自然環境變遷 (C)經濟快速起飛 (D)食物里程加長。
12. () 目前市面上有許多國外進口的食品，消費者的選擇豐富多樣。這個現象與下列哪些因素有關？ (甲)交通革新 (乙)食品加工技術進步 (丙)經濟成長率高 (丁)貿易保護政策
(A)甲乙丙 (B)乙丙丁 (C)甲乙丁 (D)甲丙丁。
13. () 蔬果、花卉等園藝作物，由於保鮮期短，為防止腐爛的情況發生，因此集散中心與交通條件關係密切。由此推論，臺灣本島蔬果、花卉等農產品的產銷中心位於附圖中哪一個區域？ (A)甲 (B)乙 (C)丙 (D)丁。
14. () 新聞報導：「屏東縣政府為帶動咖啡產業自主發展及產業經濟，積極扶植在地咖啡產業。屏東咖啡園區位於吾拉魯滋部落，以生產、生活、生態一體為發展模式。咖啡體驗館提供烘焙及手沖 DIY 體驗與咖啡產業解說；咖啡產業技研中心則提供咖啡的農藥快篩、烘焙、加工包裝，更有國際認證的咖啡教室作為人才培育及杯測使用；而咖啡展銷中心則鼓勵青年返鄉販售屏東咖啡、特色餐飲、文創商品及舉辦假日音樂市集等。微涼的秋天，喝一杯溫熱的屏東咖啡，讓人暖心又暖胃。」由上述報導可以推論，當地農業經營具有下列哪項特色？ (A)從事有機農業的生產 (B)以全球生產與銷售為主 (C)多藉由網路與消費者溝通 (D)以地產地消為主要產銷型態。
- 《背面尚有試題》

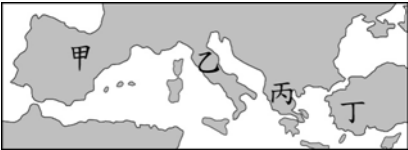


※題組 附表為民國 109 年臺灣糧食的國內生產量與國外進口量。請根據表格資訊回答 15-17 題:

▼民國 109 年臺灣糧食國內生產量與國外進口量 (單位：千公噸)		
品項	國內生產量	國外進口量
穀類	1,531.3	6,499.2
蔬菜類	2,432.8	465.3
肉類	1,641.1	557.6
水產類	891.0	475.1
乳品類	450.0	248.0
子仁及油籽類	73.8	2,774.3

註：子仁及油籽類是指榨油用的作物，如大豆、芝麻、花生等。

15. () 依據國人的飲食習慣推論，在作為主食的穀類作物中，進口數量最多者應是下列哪一種作物？
(A)小米 (B)高粱 (C)小麥 (D)稻米。
16. () 觀察表中資料可發現，穀類與其他品項不同，國外進口量較國內生產量高出許多，下列何者為可能的原因之一？ (A)國內生產技術較差 (B)相較於其他品項，穀類產品較易保存 (C)全臺各地皆無法種植出穀類產品 (D)其他品項生產主要以出口為主。
17. () 承上題，從表格所顯示的現象推論，下列敘述何者正確？ (A)國內生產的作物價格較低 (B)國內生產量全部大於國外進口量 (C)國外進口的產品品質較佳 (D)易腐的食物來源以國內生產為主。
- 18.() 甲、義大利屬於同盟國陣營
乙、導火線為「塞拉耶佛事件」
丙、俄國中途才參戰
丁、協約國陣營取得最後勝利
戊、戰爭是由德國先引起
請問：上列有關第一次世界大戰的敘述，哪些是正確的？ (A)甲丙 (B)乙丁 (C)甲丙戊 (D)乙丁戊。
19. () 這個地區位於歐、亞、非三洲的交界，曾先後歷經希臘、亞歷山大帝國等政權的統治。近代時因為此地區局勢的動盪不安，爆發了第一次世界大戰。此地區應位於附圖中的何處？ (A)甲 (B)乙 (C)丙 (D)丁。



- 20 () 現代網路資源非常發達，如果要了解第一次世界大戰中使用的武器，只要在搜尋網站中鍵入「一次大戰的武器」，就可以找到許多圖片。下列哪一種武器，不應該出現在搜尋結果中？ (A)坦克 (B)毒氣 (C)原子彈 (D)潛艇。
21. () 十九世紀後期，美國密蘇里州一位婦女到投票站參加總統選舉投票，卻因為她是女性而遭到拒絕。美國婦女獲得選舉權，要到下列哪一個時期才有可能？ (A)西元 1900 年 (B)西元 1920 年 (C)西元 1950 年 (D)西元 1980 年。
22. () 第一次世界大戰後，「國際聯盟」無法給予侵略者

有效制裁，主要的原因為何？ (A)主持國聯的美、英、法三巨頭不能合作 (B)德、義、日皆非會員國故不受限制 (C)國聯本身不具備武力 (D)參加的會員國數量太少。

23. () 列寧與史達林為二十世紀俄國歷史上呼風喚雨的人物。請問：關於列寧和史達林的比較，下列何者正確？ (A)列寧在史達林之後掌權，史達林則透過十月革命控制政局 (B)列寧與史達林均強調自由競爭、市場機制的經濟理念 (C)列寧與史達林均打壓異議分子，建立獨裁政權 (D)列寧使蘇聯成為工業強國，史達林則是共產國際的創始者。
24. () 文娟在一部電影中，看到有一家商店的門口貼著如下圖的告示標語。請問：這則標語最可能出現在哪一個國家？ (A)俄國 (B)德國 (C)英國 (D)美國。

公告

猶太人是世界上最卑賤的民族，本店禁止猶太人與狗進入消費，任何有關猶太人的商品，本店一律不予販售。

25. () 「為了使美國度過經濟大恐慌的危機，羅斯福總統開始興辦大型的公共工程建設，以提供更多的就業機會來解決失業的問題，也藉此帶動民間的消費風氣。」請問：當時所啟動的措施為何？ (A)成立關稅同盟 (B)實施提高關稅政策 (C)推動不合作運動 (D)推行新政。
26. () 某本世界史書籍上寫著：「當時工人接管工廠，農民霸占地主田地，工人和農人組成自衛隊，保護剛成立的蘇維埃。」請問：這是描述下列哪一個事件的場景？ (A)美國獨立戰爭 (B)法國大革命 (C)美國南北戰爭 (D)俄國十月革命。
- 27.() 這個政黨是西元 1922 至 1943 年義大利的執政黨；西元 1925 年時，修改選舉法，強迫國會通過實行該黨一黨專政；西元 1926 年，取締所有政黨，使得該黨成為義大利唯一合法政黨。這應該是下列哪個政黨的描述？ (A)納粹黨 (B)法西斯黨 (C)青年義大利黨 (D)共產黨。
28. () 第一次世界大戰是由歐洲內部逐漸擴張到其海外殖民地，而第二次世界大戰則是在各地陸續爆發。請問：下列有關於第二次世界大戰的過程與結果何者正確？ (A)分為協約國與同盟國兩大陣營 (B)戰爭初期，德國發動閃電戰，迅速占領英國 (C)美國因珍珠港事變而放棄中立，協助同盟國 (D)在此次戰爭中，德國最先倒臺，並宣布投降。
29. () 第二次世界大戰的發展十分複雜且步調上較為迅速，不過仍然可以透過幾個重要的事件作為戰爭的階段性發展，因此請你根據下列選項的事件發生之先後順序，排列出正確的序列。
(甲)日本偷襲珍珠港 (乙)德國入侵波蘭 (丙)盟軍於法國諾曼第登陸 (丁)美國向廣島、長崎先後投下原子彈 (戊)盟軍進攻柏林，希特勒自殺 (A)甲乙丙丁戊 (B)甲丙乙戊丁 (C)乙丙丁甲戊 (D)乙甲丙戊丁。
30. () 二次世界大戰結束後，在列強的決議下，聯合國正式成立。請問：聯合國的總部設於現今的何處？ (A)英國倫敦 (B)美國紐約 (C)荷蘭海牙 (D)瑞士日內瓦。

31. () 有關「國際聯盟」和「聯合國」的比較，下列敘述何者錯誤？ (A)分別成立於二十世紀兩次世界大戰後，均以維持世界和平為主要目的 (B)均由美國發起，並在組織中占有重要地位 (C)中國在聯合國中為常任理事國 (D)在維持國際和平上均成效不彰，國際聯盟是因本身沒有武力，而聯合國則是常任理事國的設置有礙決策的客觀性。

32. () 下圖為美蘇冷戰時期的一幅政治漫畫。對此幅漫畫的解讀，何者正確？



- (A)雙方皆有核武，但卻避免引發核子戰爭 (B)雙方皆擁有核武，希望在核子戰爭中打敗對手 (C)美國成立「聯合國安理會」以圍堵共產主義 (D)蘇聯則建立「華沙公約組織」強化與西歐國家的關係。
33. () 一份報紙上寫道：「這是值得紀念的一刻，將東、西德分隔數十年的柏林圍牆即將被推倒，柏林圍牆即將成為歷史……。」請問：上述報導的背景為何？ (A)冷戰時代的來臨 (B)華沙公約組織的成立 (C)世界貿易組織的成立 (D)蘇聯共產政權的瓦解。
34. () 為規定勞動條件最低標準，保障勞工權益，加強勞雇關係，促進社會與經濟發展，特制定本法；本法未規定者，適用其他法律之規定。上文中的「本法」應是下列何者？ (A)《民法》 (B)《刑法》 (C)《勞動基準法》 (D)《性別工作平等法》。
35. () 聯合過通過○○○，期盼提升各國的勞動、性別、族群等權利，要求國家、企業承擔責任，共同營造友善的勞動環境。文中的○○○指的是以下何者？ (A)《勞動基準法》(B)人權兩公約 (C)《勞工安全衛生法》 (D)《職業安全衛生法》。
36. () 近年來，加入國際組織是中華民國努力的目標。目前我國為「會員國」身分的國際組織有哪些？ (甲)世界貿易組織(WTO) (乙)世界衛生組織(WHO) (丙)亞太經濟合作會議(APEC) (丁)聯合國(UN) (戊)歐洲聯盟(EU) (A)甲丙 (B)乙丁戊 (C)甲乙丙戊 (D)甲乙丙丁戊。
37. () 世界貿易組織是全球最重要的國際經貿組織，總部設於瑞士日內瓦。下列關於此組織的敘述，何者正確？ (A)為區域性國際組織 (B)為非政府的國際組織 (C)我國正積極爭取加入成為會員國 (D)組成目的在推動貿易自由化。
38. () 小哲在路上看到某工地在入口處張貼的注意事項，如附圖所示。根據圖中內容判斷，這些注意事項的訂定最主要是為落實下列何項法律規定？ (A)《民法》 (B)《刑法》 (C)《職業安全衛生法》 (D)《食品安全衛生管理法》。

~工地安全守則請遵守~

- 1.綁好安全繩，防高空掉落
- 2.多補充水分，防止熱衰竭

39. () 政府透過國際組織的參與，有助於處理各種國際問題。當各國政府面臨區域性議題時，則會透過區域性國際組織進行整合，以提升共同利益。下列哪一個國際組織並非為區域性組織？ (A)歐洲聯盟(EU) (B)亞太經濟合作會議(APEC) (C)無國界醫生(MSF) (D)東南亞國協(ASEAN)。
40. () 在職場中勞方會與資方簽訂工作契約保障其權益，但是卻常見勞資之間的糾紛。從保障勞工權益的角度來說，下列何種方式最能確保建立公平的市場勞動參與環境？ (A)對發生勞資糾紛的雇主進行道德勸說 (B)鼓勵大型企業增加聘雇更多勞工數量 (C)要求廠商對拒絕加班的勞工予以解雇或減薪 (D)立法保障工作安全或透過訴訟介入勞資糾紛。
41. () 王曉明剛從大學畢業，透過「徵才博覽會」經國內某公司面試後，錄取為助理工程師。為保障勞動雙方的權利義務，訂立了勞動契約，內容包含了薪資、休假、福利等項目。上文所述屬於何種勞動參與型態？ (A)無酬勞動 (B)跨國勞動 (C)家務勞動 (D)市場勞動。
42. () 「法國羅浮宮收藏了無數國寶級藝術品，近幾年，羅浮宮和美國亞特蘭大高等藝術博物館簽訂合約，出借羅浮宮館內收藏品，長期在亞特蘭大和美國各城市展覽。」這是屬於何種國際互動方式？ (A)國際交流 (B)國際合作 (C)國際援助 (D)國際衝突。
43. () 臺灣的遠洋漁業實力在全球名列前茅，擁有超過1,100艘遠洋漁船，境外聘雇的外籍漁工人數逾2萬人，然而這些為臺灣漁業帶來豐厚產值的外籍漁工，卻在遠洋漁船上面臨人口販運和強迫勞動的危險。根據上文所述，其彰顯出以下哪一議題的重要性？ (A)勞工勞動權益與性別歧視困境 (B)海上勞動政策與漁工勞動權益 (C)外籍漁工出海後，婚姻生活變化 (D)外籍漁工在海上工作的職位升遷。
44. () 新聞報導：「全球新冠肺炎(COVID-19)疫情尚未趨緩，西元2020年亞太經合會(APEC)領袖高峰會議，將於11月30日至12月4日在馬來西亞改以視訊方式召開……。」上述APEC是亞洲太平洋地區定期舉行的經濟諮詢會議，其性質屬於下列何者？ (A)全球性、政府組織 (B)區域性、政府組織 (C)全球性、非政府組織 (D)區域性、非政府組織。
45. () 下列有關勞動型態的敘述，何者應為「無酬家務勞動」主要發揮的功能？ (A)透過日常工作行為換取工資或佣金 (B)貢獻心力直接為社會創造經濟產值 (C)取代市場勞動提供經濟來源的功能 (D)提供對家庭的照顧以維持社會穩定。

《背面尚有試題》

46. () 電影「超人特攻隊 2」編劇將背景與人物的角色調換，彈力女超人變成了打擊犯罪的明星，超人先生則在家中照顧小孩，藉由超人任務／家務的對照，大談性別與家務分工的酸甜苦辣。上述編劇將角色變換可能的原因為何？ (A)顛覆家中家務分工的刻板印象 (B)生活中男女家務分工本是如此 (C)男性本來就是家庭主要的照顧者 (D)職業婦女一直是勞動市場的主力。
47. () 「馬紹爾群島的物資須仰賴進口，我國派遣技術團協助島民發展農業生產技能，提升農業種植技術，改善島民生活品質及營養，並宣導均衡飲食等公共衛生觀念。」這是何種國際互動的方式？ (A)國際合作 (B)國際交流 (C)國際援助 (D)國際衝突。
48. () 個人運用自己的心力或體力，創造出能滿足自己或他人需求的事物，以增進個人、家庭或社會的福祉，稱為下列何者？ (A)交易 (B)勞動 (C)國際貿易 (D)機會成本。
49. () 市場勞動是直接與經濟活動產生關連，能為整體

社會創造出經濟產值，普遍受到社會的重視，也顯現出勞動參與的重要性。以下針對勞動參與重要性之描述，何者正確？ (A)無酬家務勞動的價值長期被民眾所看重 (B)家務勞動無助於市場勞動的穩定 (C)市場勞動與家務勞動間並沒有關係 (D)國際移工的移動主要來自於全球分工的緣故。

50. () 國際組織的數量和種類非常繁多，其分類方式亦有所不同。若依會員國的分布區域區分，可分為全球性與區域性之國際組織；若依成員是否具有官方性質，則有政府與非政府之區別。根據上述內容判斷，下列國際組織與其分類的配對，何者正確？ (A)聯合國——區域性國際組織 (B)歐洲聯盟——全球性國際組織 (C)世界貿易組織——政府的國際組織 (D)亞太經濟合作會議——非政府的國際組織。

試題結束

1	2	3	4	5	6	7	8	9	10
A	B	C	A	C	B	D	C	A	A
11	12	13	14	15	16	17	18	19	20
D	A	B	D	C	B	D	B	C	C
21	22	23	24	25	26	27	28	29	30
B	C	C	B	D	D	B	C	D	B
31	32	33	34	35	36	37	38	39	40
B	A	D	C	B	A	D	C	C	D
41	42	43	44	45	46	47	48	49	50
D	A	B	B	D	A	C	B	D	C